

## 令和3年度入学者選抜学力検査問題

# 社 会

### 注 意

- 1 監督者の「始め」の合図があるまでは、開いてはいけません。
- 2 検査時間は、10時35分から11時20分までの45分間です。
- 3 大きな問題は全部で6問で、表紙を除いて7ページです。  
また、別に解答用紙が1枚あります。
- 4 監督者の「始め」の合図があったら、すぐに受検番号をこの表紙と解答用紙のきめられた欄に書きなさい。
- 5 答えは、必ず解答用紙のきめられた欄に書きなさい。  
また、特に指示のあるもののほかは、各問いのア、イ、ウ、エ、…のうちから最も適当なものをそれぞれ一つ選んで、その記号を解答欄の( )の中  
に書き入れなさい。
- 6 「に当てはまる語を書きなさい」などの問いについての答えは、  
一般に数字やカタカナなどで書くもののほかは、できるだけ漢字で書きなさい。
- 7 監督者の「やめ」の合図があったら、すぐやめて、筆記用具をおきなさい。

受 検 番 号

番

1 栃木県に住む一郎さんは、図1の4地点(本州の東西南北の端)を訪れた。これを見て、1から7の問いに答えなさい。

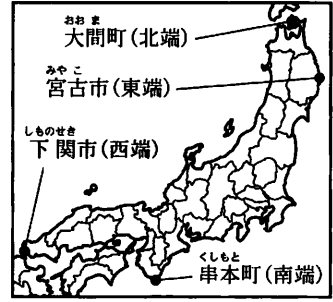


図1

1 大間町のある青森県や、宮古市のある岩手県について述べた、次の文中の [ ] に当てはまる語を書きなさい。

東北地方の太平洋側では、夏の初め頃に冷たく湿った「やませ」とよばれる風が長い間吹くと、日照不足や気温の低下などにより [ ] という自然災害がおり、米の収穫量が減ることがある。

2 宮古市で行われている漁業について述べた、次の文中の [ I ] , [ II ] に当てはまる語の組み合わせとして正しいのはどれか。

宮古市の太平洋岸には、もともと山地の谷であった部分に海水が入り込んだ [ I ] が見られる。この地域では、波がおだやかであることを生かし、ワカメやホタテガイ、ウニなどの [ II ] 漁業が行われている。

- ア I - フィヨルド II - 沖合                      イ I - フィヨルド II - 養殖  
ウ I - リアス海岸 II - 沖合                      エ I - リアス海岸 II - 養殖

3 図2は、岩手県と同程度の人口規模である、滋賀県、奈良県、沖縄県における、農林業、漁業、製造業、宿泊・飲食サービス業に従事する産業別人口(2017年)を示している。製造業はどれか。

	岩手県 (千人)	滋賀県 (千人)	奈良県 (千人)	沖縄県 (千人)
ア	34.6	40.9	33.1	56.9
イ	5.2	0.6	—	1.8
ウ	98.0	190.0	103.7	33.3
エ	58.3	17.4	14.4	25.0

図2 (「県勢」により作成)

4 串本町の潮岬の沖合には、暖流の影響でさんご礁が見られる。次のうち、世界最大級のさんご礁が見られる国はどれか。

- ア オーストラリア      イ カナダ      ウ ノルウェー      エ モンゴル

5 一郎さんと先生の会話文を読み、(1)、(2)の問いに答えなさい。

一郎：「8月に大阪市を經由して串本町の潮岬を訪れましたが、大阪市は潮岬と比べて、とても暑く感じました。これはなぜでしょうか。」

先生：「気象庁のウェブページで、8月の気象データの平均値を見てみましょう。」

	8月の日照時間(時間)	8月の最高気温(℃)
大阪市中央区	216.9	33.4
串本町潮岬	234.6	29.6

図3 (「気象庁ウェブページ」により作成)

一郎：「大阪市は潮岬より日照時間が短いのに、最高気温が高くなっています。都市の中心部では、自動車やエアコンからの排熱により周辺部と比べ気温が高くなっているからでしょうか。」

先生：「そうですね。これは、 [ X ] 現象とよばれますね。また、周辺部と比べ気温が高くなることで、急な大雨が降ることもあります。」

一郎：「そういえば、大阪市で突然激しい雨に降られました。都市の中心部では、 [ Y ] ので、集中豪雨の際は大規模な水害が発生することがあると学びました。」

(1) 会話文中の [ X ] に当てはまる語を書きなさい。

(2) 下線部の水害が発生する理由として、会話文中の [ Y ] に当てはまる文を、「舗装」の語を用いて簡潔に書きなさい。

- 6 次の文は、一郎さんが図4中に示した——の経路で歩いた様子について述べたものである。下線部の内容が正しいものを二つ選びなさい。

下関駅を出て、北側にある交番から ア 1,500 m 歩き、「海峡ゆめタワー」に上り、街を眺めた。次に、イ 図書館の北を通り、ウ 下関駅よりも標高が低い「日和山公園」で休憩した。次に、「観音崎町」にある寺院を訪れた。その後、エ この寺院から北東方向にある市役所に向かった。



図4 (国土地理院発行2万5千分の1電子地形図により作成)

- 7 日本の貨物輸送の特徴として、当てはまらないのはどれか。
- ア 航空機は、半導体などの軽くて高価なものの輸出に利用されることが多い。
  - イ 高速道路のインターチェンジ付近に、トラックターミナルが立地するようになっている。
  - ウ 船舶は、原料や燃料、機械などの重いものを大量に輸送する際に用いられることが多い。
  - エ 鉄道は環境への負荷が小さいため、貨物輸送に占める割合は自動車と比べて高い。

- 2 図1は、日本の貿易相手上位10か国・地域(2018年)の位置を示している。これを見て、次の1から7までの問いに答えなさい。

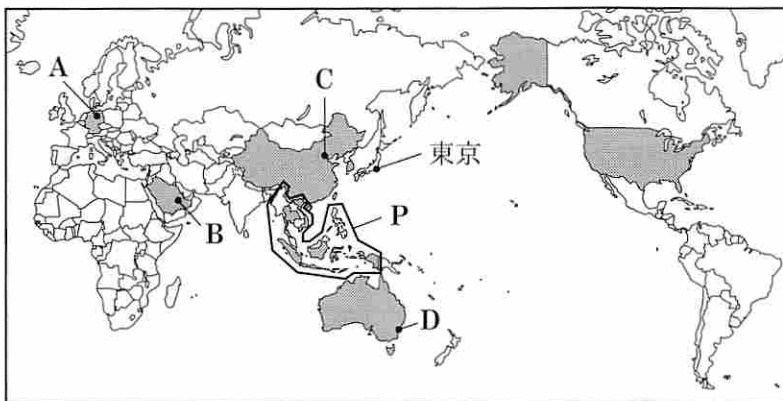


図1

	1月 (°C)	7月 (°C)	降水量が最も多い 月の降水量(mm)
ア	0.9	19.8	59.7 (6月)
イ	-3.1	26.7	160.5 (7月)
ウ	22.9	12.5	123.1 (4月)
エ	14.5	36.6	34.4 (4月)

図2 (「理科年表」により作成)

- 1 東京が12月1日の正午の時、12月1日の午前6時である都市は、図1中のA、B、C、Dのどれか。なお、日時は現地時間とする。
- 2 次の文は、図1中のPで囲んだ国々について述べたものである。文中の  に当てはまる語を書きなさい。

地域の安定と発展を求めて、1967年に  が設立され、経済、政治、安全保障などの分野で協力を進めている。

- 3 図2は、図1中のA、B、C、Dの都市における1月と7月の平均気温、降水量が最も多い月の降水量(平均値)を示している。Aの都市は、図2中のア、イ、ウ、エのどれか。

4 図3中のa, b, cには、韓国、タイ、ドイツのいずれかが当てはまる。a, b, cに当てはまる国の組み合わせとして正しいのはどれか。

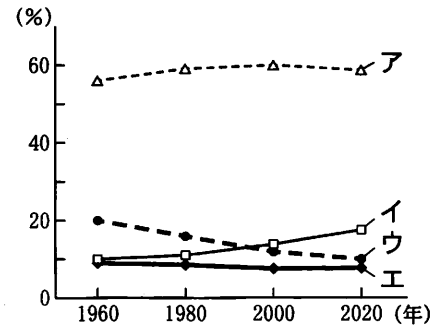
- ア a - 韓国 b - タイ c - ドイツ  
 イ a - 韓国 b - ドイツ c - タイ  
 ウ a - ドイツ b - 韓国 c - タイ  
 エ a - ドイツ b - タイ c - 韓国

	主な宗教の人口割合(%)	
a	キリスト教 56.2	イスラム教 5.1
b	仏教 94.6	イスラム教 4.3
c	キリスト教 27.6	仏教 15.5

注) 韓国、タイは2015年、ドイツは2018年

図3 ([The World Fact Book]により作成)

5 図4は、アジア州、アフリカ州、ヨーロッパ州、北アメリカ州の人口が世界の人口に占める割合の推移を示している。アフリカ州とヨーロッパ州はそれぞれどれか。



注) 2020年は推計値

図4 ([世界の統計]により作成)

6 図5は、インドネシア、サウジアラビア、オーストラリアからの日本の主な輸入品目(2018年)を示している。オーストラリアはA, Bのどちらか。また、、には、石油か石炭のいずれかが当てはまる。石油はC, Dのどちらか。なお、同じ記号には同じ語が当てはまる。

	日本の主な輸入品目	
A	<input type="text" value="C"/>	液化天然ガス、鉄鉱石、牛肉
インドネシア	金属鉱と金属くず、 <input type="text" value="C"/>	液化天然ガス、電気機器
B	<input type="text" value="D"/>	揮発油、有機化合物、液化石油ガス

図5 ([地理統計要覧]ほかにより作成)

7 図6、図7中のX, Y, Zにはそれぞれアメリカ、韓国、中国のいずれかが当てはまる。中国はX, Y, Zのどれか。また、そのように考えた理由について、図6、図7から読み取れることをふまえ、簡潔に書きなさい。

日本への輸出額上位3品目とその割合(%)				
	1996年		2016年	
X	コンピュータ	7.4	電気機器	15.5
	穀物	5.5	一般機械	15.0
	肉類	4.5	航空機類	7.2
Y	衣類	27.0	電気機器	29.7
	魚介類	5.2	一般機械	16.5
	原油	4.1	衣類と同付属品	11.2
Z	半導体等電子部品	15.6	電気機器	17.6
	石油製品	9.5	化学製品	14.2
	鉄鋼	9.2	一般機械	13.2

図6 ([データブックオブザワールド]により作成)

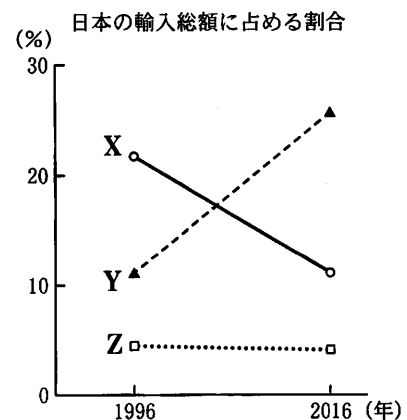


図7 ([データブックオブザワールド]により作成)

3 次のAからDは、古代から近世までの資料とその説明である。これを読み、1から7までの問いに答えなさい。

資料	説明
A 木簡	② <u>地方の特産物を納める税</u> として、平城京に運ばれた海産物などが記されていた。
B 明銭	① <u>明との貿易</u> が始まった時期に輸入された銅銭。土器に大量に入れられ、埋められていた。
C 鉄剣	5世紀頃つくられた稲荷山古墳(埼玉県)から出土し、「 <sup>わかたける</sup> 獲加多支鹵大王」と刻まれていた。また、江田船山古墳(熊本県)でも同様の文字が刻まれた鉄刀が出土した。
D <sup>こうきつ</sup> 高札	犬や猫をひもでつなぐことを禁止するという、③ <u>生類憐みの令</u> の内容が記されていた。

1 Aの資料が使われていた時期のできごととして当てはまるのはどれか。

- ア 一遍がおどり念仏を広めた。                      イ 仏教が初めて百済から伝わった。  
 ウ 『万葉集』がまとめられた。                      エ 『新古今和歌集』が編集された。

2 下線部②について、この税を何というか。

3 Bの資料が使われていた時期の社会について述べた、次の文中の  に当てはまる語を書きなさい。

商工業者による同業者の団体である  が、貴族や寺社の保護のもと、営業の権利を独占した。

4 下線部①について、日本の正式な貿易船と倭寇とを区別するための証明書を何というか。

5 Cの資料について、(1)、(2)の問いに答えなさい。

(1) 図1は、稲荷山古墳や江田船山古墳と同じ形をした古墳の模式図である。この形の古墳を何というか。



図1

(2) 図2は、3世紀と5世紀における図1と同じ形をした古墳の分布図である。大和地方を中心とする大和政権(ヤマト王権)の勢力範囲が、3世紀から5世紀にかけてどのように変化しと考えられるか。Cの資料の説明と図2をふまえ、簡潔に書きなさい。

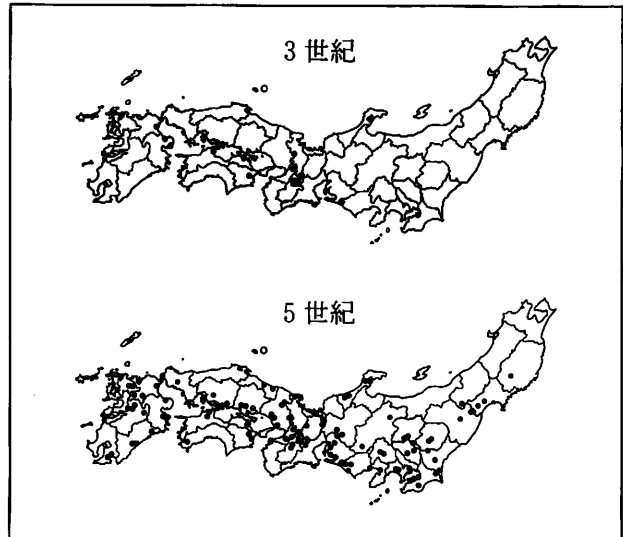


図2

6 下線部③を出した人物が行った政策について、正しく述べているのはどれか。

- ア 裁判の基準となる公事方御定書を制定するとともに、庶民の意見を聞く目安箱を設置した。  
 イ 参勤交代の制度を定め、1年おきに領地と江戸を大名に往復させることとした。  
 ウ 儉約令を出すとともに、旗本や御家人の生活難を救うため、借金を帳消しにした。  
 エ 朱子学を重視し、武力にかわり学問や礼節を重んじる政治への転換をはかった。

7 AからDの資料を、年代の古い順に並べ替えなさい。

4 次の文を読み、1から5までの問いに答えなさい。

日本が国際博覧会に初めて参加したのは、幕末の①パリ博覧会(1867年)である。明治時代初頭には、条約改正交渉と欧米視察を行った②日本の使節団がウィーン博覧会(1873年)を訪れた。その後も、日本は③セントルイス博覧会(1904年)などに参加した。また、日本は、博覧会を1940年に開催することを計画していたが、④国内外の状況が悪化し、実現できなかった。⑤日本での博覧会の開催は第二次世界大戦後となった。

1 下線部①に関して、(1)、(2)、(3)の問いに答えなさい。

(1) 日本は、パリ博覧会に生糸を出品した。その後、生糸の増産と品質向上を目指し、1872年に群馬県に建てられた官営工場(官営模範工場)を何というか。

(2) 日本は、パリ博覧会に葛飾北斎の浮世絵を出品した。このことは、浮世絵がヨーロッパで紹介される一因となった。次のうち、葛飾北斎と同時期に活躍した浮世絵師はどれか。

- ア 狩野永徳                      イ 歌川広重  
ウ 尾形光琳                      エ 菱川師宣

(3) 薩摩藩は、パリ博覧会に参加するなど、ヨーロッパの列強との交流を深めていった。列強と交流するようになった理由を、図1から読み取れることをふまえ、「攘夷」の語を用いて、簡潔に書きなさい。

年	薩摩藩のできごと
1863	薩英戦争
1865	イギリスへの留学生派遣 イギリスから武器を購入
1866	薩長同盟
1867	パリ博覧会参加

図1

2 下線部②について、この使節団を何というか。

3 下線部③に関して、セントルイス博覧会が開催されていた頃、日本はロシアと戦争を行っていた。図2中のア、イ、ウ、エのうち、日露戦争開戦時に日本の領土であったのはどれか。

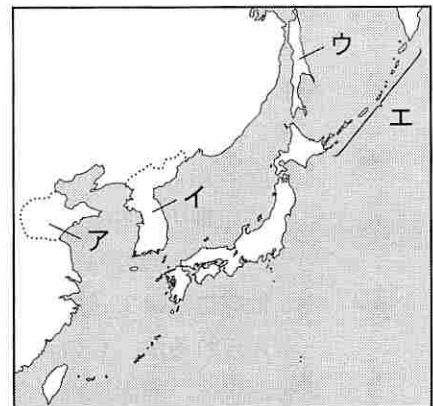


図2

4 下線部④に関して、日本が国際連盟を脱退した後の状況について、正しく述べているのはどれか。

- ア 米騒動が全国に広がった。                      イ 世界恐慌がおこった。  
ウ 五・一五事件がおきた。                      エ 日中戦争が始まった。

5 下線部⑤に関して述べた、次の文中の I、II に当てはまる語の組み合わせとして、正しいのはどれか。

I 内閣は、アメリカと交渉をすすめ、1972年に II を実現させた。このことを記念して、1975年に国際海洋博覧会が開催された。

- ア I - 佐藤栄作    II - 日中国交正常化                      イ I - 吉田茂    II - 日中国交正常化  
ウ I - 佐藤栄作    II - 沖縄の日本復帰                      エ I - 吉田茂    II - 沖縄の日本復帰

5 1 から 4 までの問いに答えなさい。

1 図 1 は、三権の抑制と均衡の関係を示している。次の(1)、(2)の問いに答えなさい。

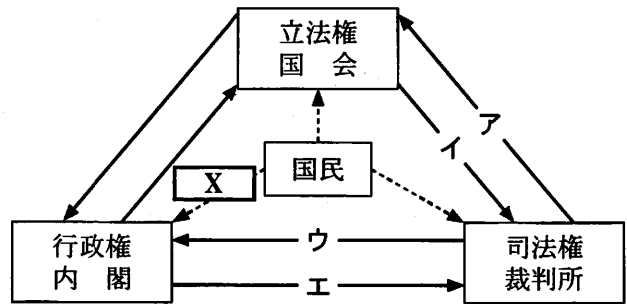


図 1

(1) 図 1 中のア、イ、ウ、エのうち、「弾劾裁判所の設置」を表す矢印はどれか。

(2) 次の文中と図 1 中の **X** に共通して当てはまる語は何か。

国民のまとまった意見や考え方を **X** とよび、その形成にはテレビや新聞などのマスメディアの影響が大きいといわれている。

2 累進課税について、正しく述べているのはどれか。

- ア 高所得者ほど、高い税率が適用される。    イ 景気に左右されず、一定の税収が見込める。  
ウ 生鮮食品に対して、税率が軽減される。    エ 所得が少ない人ほど、税負担の割合が高い。

3 地方自治に関して、国と比較した地方の行政事務の特徴を図 2 から読み取り、簡潔に書きなさい。また、政令指定都市と比較した小都市の歳入の特徴を図 3 から読み取り、地方交付税の役割にふれ、簡潔に書きなさい。

主な行政事務の分担

	教育	福祉	その他
国	・大学	・医師等免許	・防衛 ・外交
地方 (市町村)	・小中学校 ・幼稚園	・国民健康保険 ・ごみ処理	・消防 ・戸籍

歳入に占める割合と、人口一人当たり歳入額

	地方税 (%)	地方交付税 (%)	一人当たり歳入額 (千円)
政令指定都市	41.2	5.1	509
小都市 (人口 10 万人未満)	27.1	23.3	498

図 2 (総務省ウェブサイトにより作成)

図 3 (総務省令和 2 年版地方財政白書)により作成)

4 経済活動に関して、次の(1)、(2)、(3)の問いに答えなさい。

(1) 日本銀行に関する次の文 I、II、III の正誤の組み合わせとして、正しいのはどれか。

I 日本で流通している紙幣を発行するため、「発券銀行」とよばれている。  
II 国民から集めた税金の使い道を決定するため、「政府の銀行」とよばれている。  
III 一般の銀行との間でお金の出し入れをするため、「銀行の銀行」とよばれている。

- ア I - 正 II - 正 III - 誤                      イ I - 正 II - 誤 III - 正  
ウ I - 正 II - 誤 III - 誤                      エ I - 誤 II - 正 III - 正  
オ I - 誤 II - 正 III - 誤                      カ I - 誤 II - 誤 III - 正

(2) 企業が不当な価格協定を結ぶことを禁止するなど、市場における企業どうしの公正かつ自由な競争を促進するために制定された法律を何というか。

(3) 日本の企業について、正しく述べているのはどれか。

- ア 企業の 9 割は大企業に分類され、大企業の多くは海外に進出している。  
イ 水道やバスなどの公企業の本来的な目的は、高い利潤を上げることである。  
ウ 勤務年数に関わらず、個人の能力や仕事の成果で賃金を決める企業も増えている。  
エ 企業の代表的な形態は株式会社であり、株主は企業に対してすべての責任を負う。

6

ゆきさんと先生の会話文を読み、1から6までの問いに答えなさい。

ゆき：「日本は①少子高齢化に対応するため、社会保障の充実を図っています。例えば、A制度は、40歳以上のすべての国民が加入し、公的な支援を受けられる社会保険の一つですね。」  
 先生：「そのような社会保障のしくみは、②日本国憲法における基本的人権の尊重の考え方に基づいています。③人権を保障するには、④民主主義による政治を行うことが重要ですね。」  
 ゆき：「3年後には有権者になるので、⑤実際の選挙について、調べてみようと思います。」

1 下線部①に関して、働く人の数が減少することを見据え、性別に関わらず、働きやすい職場環境を整えることが大切である。雇用における女性差別を禁止する目的で、1985年に制定された法律を何というか。

2 会話文中のAに当てはまる語を書きなさい。

3 下線部②に関して、次の(1)、(2)の問いに答えなさい。

(1) 次の文は日本国憲法の一部である。文中の      に当てはまる語を書きなさい。

すべて国民は、個人として尊重される。生命、自由及び幸福追求に対する国民の権利については、      に反しない限り、立法その他国政の上で、最大の尊重を必要とする。

(2) 図1は、憲法改正の手続きを示している。I、IIに当てはまる語の組み合わせとして正しいのはどれか。

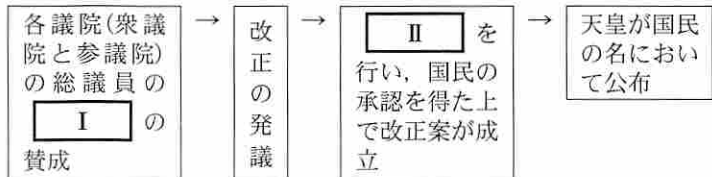


図1

- ア I - 3分の2以上 II - 国民投票      イ I - 3分の2以上 II - 国民審査  
 ウ I - 過半数 II - 国民投票      エ I - 過半数 II - 国民審査

4 下線部③に関して述べた、次の文中のI、IIに当てはまる語の組み合わせとして、正しいのはどれか。なお、同じ記号には同じ語が当てはまる。

警察が逮捕などをする場合、原則として裁判官が出すIがなければならない。また、被告人が経済的な理由でIIを依頼できない場合は、国が費用を負担してIIを選ぶことになっている。

- ア I - 令状 II - 検察官      イ I - 令状 II - 弁護人  
 ウ I - 証拠 II - 検察官      エ I - 証拠 II - 弁護人

5 下線部④に関して、議会制民主主義における考え方として当てはまらないのはどれか。

- ア 法の下での平等      イ 多数決の原理      ウ 少数意見の尊重      エ 人の支配

6 下線部⑤に関して、ゆきさんは、2019年の参議院議員選挙について調べ、若い世代の投票率が他の世代よりも低いことに気付いた。この課題について、図2、図3をふまえ、どのような解決策が考えられるか、簡潔に書きなさい。

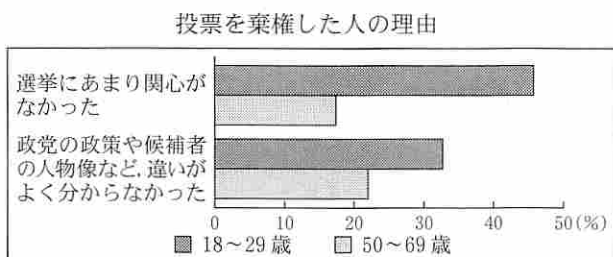


図2 (「参議院議員選挙全国意識調査」により作成)

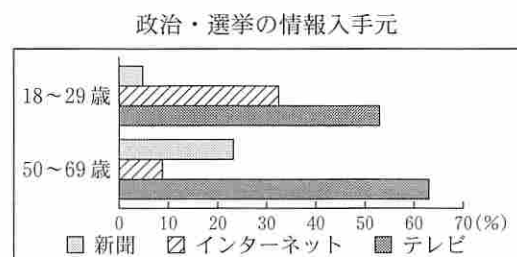


図3 (「参議院議員選挙全国意識調査」により作成)