

平成 31 年度入学者選抜学力検査問題

社 会

注 意

- 1 監督者の「始め」の合図があるまでは、開いてはいけません。
- 2 検査時間は、10時35分から11時20分までの45分間です。
- 3 大きな問題は全部で7問で、表紙を除いて7ページです。
また、別に解答用紙が1枚あります。
- 4 監督者の「始め」の合図があったら、すぐに受検番号をこの表紙と解答用紙のきめられた欄に書きなさい。
- 5 答えは、必ず解答用紙のきめられた欄に書きなさい。
また、特に指示のあるもののほかは、各問いのア、イ、ウ、エのうちから最も適当なものをそれぞれ一つ選んで、その記号を解答欄の()の中に書き入れなさい。
- 6 「に当てはまる語を書きなさい」などの問いについての答えは、一般に数字やカタカナなどで書くもののほかは、できるだけ漢字で書きなさい。
- 7 監督者の「やめ」の合図があったら、すぐやめて、筆記用具をおきなさい。

受 検 番 号

番

1 次の1, 2の問いに答えなさい。

1 次の(1)から(4)までの文中の [] に当てはまるのはどれか。

(1) スペイン語を話す、メキシコやカリブ海諸国からアメリカ合衆国への移民は、 [] とよばれている。

ア マオリ イ イヌイット ウ アボリジニ エ ヒスパニック

(2) 優れた人材を役人に登用するため、聖徳太子は [] という制度を設けた。

ア 大宝律令 イ 冠位十二階 ウ 武家諸法度 エ 御成敗式目

(3) 1492年、スペインの援助を受け、インドなどのアジアをめざした [] は、大西洋を横断し、西インド諸島に到達した。

ア コロンブス イ バスコ・ダ・ガマ ウ マゼラン エ ザビエル

(4) 地方公共団体間の財政格差を調整するために、国から [] が配分される。

ア 国債費 イ 地方交付税交付金 ウ 国庫支出金 エ 社会保障関係費

2 次の(1)から(4)までの文中の [] に当てはまる語を書きなさい。

(1) 発展途上国などでみられる、特定の農産物や鉱産資源などに依存している経済を、 [] 経済という。

(2) 東北地方の太平洋側では、 [] とよばれる冷たい北東風の影響を強く受けると、稲が十分に育たず収穫量が減ってしまうことがある。

(3) 室町幕府の3代将軍である [] は、南北朝を統一し長年続いた内乱を終わらせた。

(4) 最高裁判所は、法律などが憲法に違反していないかどうかを、最終的に決定できる権限をもつことから、「 [] 」とよばれている。

2 あすかさんの旅行記の一部を読み、次の1から5までの問いに答えなさい。

成田からインドのデリーへ向かう飛行機の窓から、④世界で最も高い山がある山脈が見えた。デリーでは、インドで最も多くの人々が信仰している [I] 教の文化にふれた。

デリーの後に、⑤タイのバンコクとインドネシアのジャカルタを訪れた。両都市とも③経済発展が進む国の首都であり、活気にあふれていた。

最後に中国を訪れた。①コワンチョウ(広州)では白かゆなど、②ベキン(北京)ではマントウ(蒸しパンの一種)など、伝統的な料理を楽しんだ。

1 図1は、あすかさんが乗った飛行機の、成田からデリーへの飛行経路を示している。図1のア、イ、ウ、エのうち、下線部④の山脈に最も近い位置にあるのはどれか。

2 旅行記中の [I] に当てはまる語を書きなさい。



図1

3 下線部㉑に関して、バンコクとジャカルタは同じ気候帯に属する。両都市が属する気候帯に関して、正しく述べているのはどれか。

- ア 1年を通して雨が降り、長い冬が続く。寒さに強いじゃがいもなどが栽培されている。
- イ 雨が少なく、草木がほとんど育たない。農業は難しく、羊などの遊牧が行われている。
- ウ 雨が多く、1年を通して気温が高い。農園で、バナナなどが大規模に栽培されている。
- エ 冬に雨が多く降り、夏はほとんど降らない。乾燥に強いぶどうなどが栽培されている。

4 下線部㉒に関して、図2は日本、インド、タイ、インドネシア、中国の主な輸出品、乗用車保有台数、GDPに関する統計をまとめたものである。タイに当てはまるのは、図2のア、イ、ウ、エのどれか。

	主な輸出品(上位3品目)の輸出額に占める割合(%) (2014年)	乗用車保有台数(万台) (2016年)	1人あたりのGDP(ドル) (2015年)
日本	機械類(35.2)、自動車(20.6)、精密機械(6.2)	6,140	34,522
ア	機械類(41.4)、衣類(8.0)、繊維と織物(4.8)	16,560	8,109
イ	石油製品(19.2)、ダイヤモンド(7.6)、機械類(7.4)	3,436	1,614
ウ	石炭(10.6)、パーム油(9.9)、機械類(9.0)	1,348	3,346
エ	機械類(30.5)、自動車(11.3)、石油製品(4.3)	829	5,815

図2 (「地理統計要覧」ほかにより作成)

5 下線部㉓に関して、あすかさんは、ホーベイ(河北)省とコワントン(広東)省の米と小麦の生産量(2016年)を図3にまとめ、図4の雨温図を作成した。

図3から読み取れる、ホーベイ省とコワントン省の米と小麦の生産の特徴について簡潔に書きなさい。また、図4から読み取れる、コワンチョウの気候の特徴を、ベキンと比較して簡潔に書きなさい。

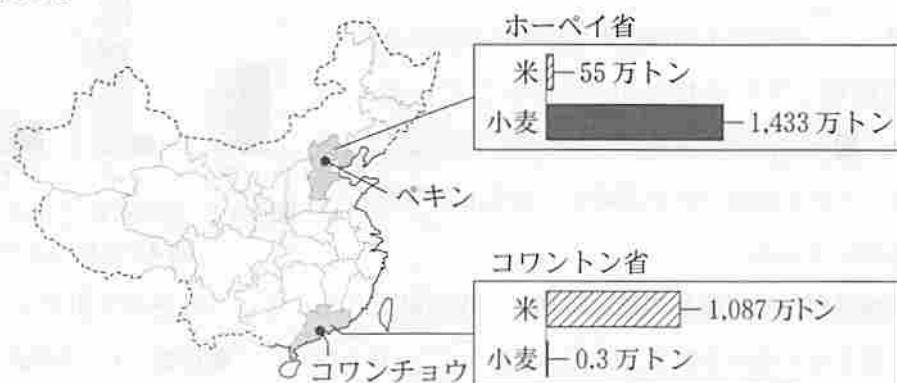


図3 (「データブック オブ・ザ・ワールド」により作成)

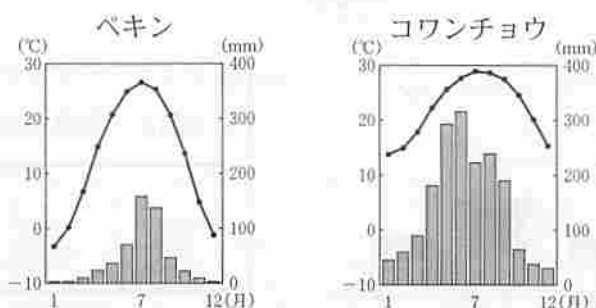


図4 (「気象庁ホームページ」により作成)

3 九州地方に関して、次の1から5までの問いに答えなさい。

1 次の文中の **I** に共通して当てはまる語を書きなさい。

九州南部には **I** とよばれる土壌が分布している。**I** 台地は水もちが悪いため、稲作に適さず、畜産が盛んに行われている。

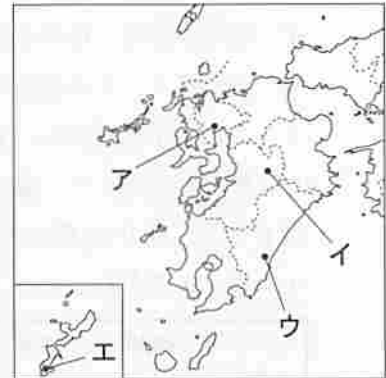


図2

2 図1は、あるカルデラの立体地図である。この立体地図にみられるくぼ地には、市街地が広がっている。図1の地形がみられる場所は、図2のア、イ、ウ、エのどれか。



図1 (「地理院地図」により作成)

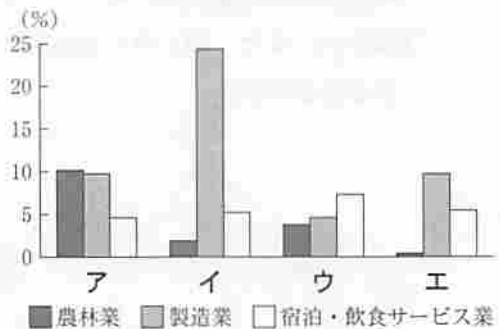
3 図3は、東北、関東、中国、九州各地方の水力、地熱、風力、太陽光による発電量(2015年度)をまとめたものである。地熱による発電量は、図3のア、イ、ウ、エのどれか。

	東北地方	関東地方	中国地方	九州地方
ア	1,819	400	377	659
イ	666	1,339	691	1,628
ウ	1,083	11	0	1,358
エ	15,896	14,069	4,141	7,478

単位：百万kWh

図3 (「日本国勢図会」により作成)

4 図4は、青森県、東京都、愛知県、沖縄県について、労働力人口に占める農林業、製造業、宿泊・飲食サービス業の割合(2015年)を示したものである。沖縄県は図4のア、イ、ウ、エのどれか。



5 図5は、東京都中央卸売市場におけるきゅうりの取扱量と平均価格(2016年)を示している。また、図6は、きゅうりの生育に適した気温と、きゅうりの主産地である宮崎市、福島市の平均気温を示している。

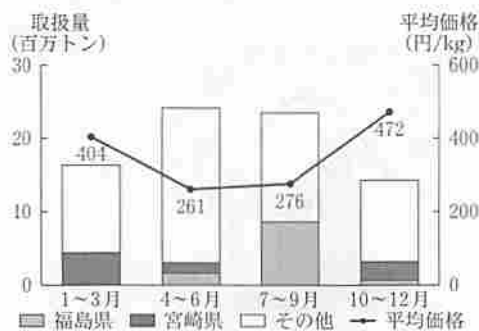


図5 (「東京都中央卸売市場ホームページ」により作成)



図6 (「気象庁ホームページ」ほかにより作成)

宮崎県が、平均価格の高い時期に、福島県よりも、きゅうりを多く出荷できる理由について、図6から読み取れることにふれ、「ビニールハウス」、「暖房費」の二つの語を用いて簡潔に書きなさい。

4 次のAからEのカードは、古代から近代までの5人の女性についてまとめたものである。これらを読み、次の1から7までの問いに答えなさい。

A 【光明皇后】彼女は、民衆に伝染病が広がっていたため、病人に薬を与え治療する施設を都に設けた。また、④天皇である夫も、寺院を建て、仏教の力によって、国の安定をめざした。

B 【和宮】彼女は、孝明天皇の妹であり、公武合体策により將軍の家茂と結婚した。夫である家茂が亡くなった後、慶喜が將軍となった。

C 【出雲の阿国】彼女は、豊臣秀吉が活躍した頃に、出雲大社の巫女として諸国を巡ったとされている。彼女が始めた **I** は、現代でも多くの人に親しまれている伝統文化の原型となった。

D 【建礼門院徳子】彼女は、武士として初めて太政大臣となった平清盛の娘である。彼女は、高倉天皇と結婚した。生まれた子がのちに安徳天皇となり、⑥平氏はさらに勢力を拡大した。

E 【津田梅子】彼女は、岩倉使節団に加わり、政府が派遣した最初の女子留学生の一人となった。彼女は留学の経験をいかし、③日本の女子教育と英語教育の発展のために尽力した。

- 1 下線部④に関して、図1の仏像がある寺院を何というか。
- 2 次の文のうち、Bのカードの時代と同じ時代区分のものはどれか。

- ア かな文字がつくられ、多くの優れた文学作品が生み出された。
- イ 大名が結婚する場合、幕府の許可が必要であった。
- ウ 女性にも口分田が与えられ租を負担したが、兵役は課されなかった。
- エ 女性にも幕府によって相続権が認められ、地頭や御家人になる者もみられた。



図1

3 Cのカードの **I** に当てはまる語はどれか。

- ア 浄瑠璃 イ 狂言
- ウ 能 エ かぶき踊り

4 Dのカードの平清盛と、図2の藤原道長が栄華を誇ることができた理由を、Dのカードと図2をふまえ、簡潔に書きなさい。

5 下線部⑥について、平氏が滅んだ戦いはどれか。

- ア 壇ノ浦の戦い イ 関ヶ原の戦い
- ウ 白村江の戦い エ 桶狭間の戦い

6 下線部③について、明治時代を通して、女子の就学率は徐々に上昇し、1907(明治40)年には、100%近くに達した。女子教育が普及した背景として、明治時代に当てはまらないのはどれか。

- ア 日清戦争から日露戦争にかけて、軽工業や重工業が発展し、国民生活が向上したこと。
- イ 全国各地に小学校がつくられるとともに、大学など高等教育機関の制度も整ったこと。
- ウ 憲法にもとづく政治を守る護憲運動がおこり、政党内閣が成立したこと。
- エ 学制が公布され、教育を受けさせることが国民の義務となったこと。

7 AからEのカードを、年代の古い順に並べなさい。ただしEを最後とする。

今日(こんにち)は女御藤原威子(みまご)が皇后となった日である。威子は、藤原道長の三女で、一つの家から三人の皇后がでるのはいまだかつてないことである。…道長は、「この世の中は自分の世のように思われる。まるで満月が少しも欠けていないように思われることだ」とよんだ。…

〔小右記〕(二部を要約し、現代語訳したもの)

図2

5 略年表を見て、次の1から5までの問いに答えなさい。

年	日本と夏季オリンピックの関わり	年	日本をめぐる国際情勢
1912	第5回大会に日本が初めて参加……………A	1914	第一次世界大戦に参戦……………①
1920	第7回大会で日本がメダルを初めて獲得	1931	満州事変がおこる……………②
1938	第12回東京大会(1940)開催権を返上……………B	1945	ポツダム宣言の受諾……………③
1964	第18回東京大会の開催……………④	1978	日中平和友好条約の締結……………⑤
2013	第32回東京大会(2020)の開催が決定……………⑥	1992	国連平和維持活動(PKO)協力法が成立

1 Aのできごとと同じ年に建国された、アジア最初の共和国を何というか。

2 ①の時期における、日本の生活や文化の様子を表したのはどれか。

- ア 「ぜいたくは敵だ」などのスローガンのもと、米の配給制も始まり、戦時色が強まった。
- イ テレビが普及し、プロ野球中継が多くの国民の娯楽として人気を集めた。
- ウ 太陽暦が採用され、都市では西洋風のレンガ造りの建物もみられるようになった。
- エ 文化の大衆化が進むにつれ、新聞や雑誌が多く発行され、ラジオ放送も始まった。

3 Bのできごとに関して、次の文中の に当てはまるのはどれか。

1936年に、日本はオリンピックの開催権を得たが、その後、 ため、開催権を返上した。

- ア 朝鮮戦争が始まった
- イ 日中戦争がおこった
- ウ シベリア出兵が行われた
- エ 日英同盟が解消された

4 ③の時期におきたできごとを、年代の古い順に並べなさい。

- ア サンフランシスコ平和条約の締結
- イ 日本国憲法の公布
- ウ 沖縄の返還
- エ 国際連合への加盟

5 ④の時期について、図1は、モスクワ大会とロサンゼルス大会における、参加辞退国を示し、図2は、アトランタ大会から、独立国として初参加した国を示したものである。

図1の国々が参加を辞退した背景と、図2の国々が初めて参加できるようになった背景をそれぞれ簡潔に書きなさい。なお、いずれも「ソ連」の語を用いること。

〔主な参加辞退国〕
 ・モスクワ大会(1980年)：アメリカ、西ドイツ、日本
 ・ロサンゼルス大会(1984年)：ソ連、東ドイツ

〔主な初参加国〕
 ・アトランタ大会(1996年)：ウクライナ、ベラルーシ、カザフスタン

図1 (「JOCホームページ」ほかにより作成)

図2 (「JOCホームページ」ほかにより作成)

6 次の1、2の問いに答えなさい。

1 次の(1)から(4)までの問いに答えなさい。

- (1) 株式会社が利潤を上げた場合、所有する株式数に応じ、株主に支払うお金を何というか。
- (2) 次の文中の I II に当てはまる語の組み合わせとして正しいのはどれか。

消費税は税負担者と納税者が I 税金であり、その税率は所得に II 。

- ア I - 同じ II - 関係なく同じである
- イ I - 同じ II - 応じて異なる
- ウ I - 異なる II - 関係なく同じである
- エ I - 異なる II - 応じて異なる

(3) 仕事と家庭生活などとの調和を図り、働き方や生き方の充実をめざす考えはどれか。

- ア インフォームド・コンセント イ バリアフリー
ウ メディアリテラシー エ ワーク・ライフ・バランス

(4) ODA について、正しく述べているのはどれか。

- ア 発展途上国に対して、資金の提供に加え、農業技術や教育などの援助を行っている。
イ 貿易の自由化を促進するため、関税をなくすなど、経済関係の強化をめざしている。
ウ 地球温暖化を防ぐため、先進国に対して温室効果ガスの削減を義務付けている。
エ 各国の貴重な自然や文化を世界遺産として登録し、保護する活動をしている。

2 中学生のゆりさんと姉のあやさんの会話文を読み、(1)から(6)までの問いに答えなさい。

ゆり「①国連総会で演説したマララさんについて学び、教育の大切さを改めて考えたよ。」
あや「そうだね。16歳で、堂々と意見を主張していたね。ゆりも18歳になったら②選挙権を持てるから、自分の意見をきちんと言えるといいね。」
ゆり「それに、国会で Ⅰ が改正され、成年年齢も18歳になったよね。自分の意思でほとんどの③契約が結べるし、有効期間10年の④パスポートも取得できるよ。」
あや「でも、⑤裁判員は重大な判断を求められるので、選ばれる年齢は20歳からなのよ。」
ゆり「自分でできることが増える分、責任が伴うから、しっかりしないとね。」

(1) 会話文中の Ⅰ に当てはまる語はどれか。

- ア 条例 イ 憲法 ウ 法律 エ 政令

(2) 下線部①に関して、次の文中の Ⅱ に当てはまる語を書きなさい。

第二次世界大戦の後、人権の尊重は世界共通の基礎であるとして、1948年12月10日に、Ⅱ が採択された。1966年には、法的拘束力をもつ規約が採択された。

(3) 下線部②に関して、都道府県知事の選出方法として、正しく述べているのはどれか。

- ア 被選挙権は25歳以上で、地方議員の中から議会で指名される。
イ 被選挙権は30歳以上で、地方議員の中から議会で指名される。
ウ 被選挙権は25歳以上で、住民の直接選挙で選ばれる。
エ 被選挙権は30歳以上で、住民の直接選挙で選ばれる。

(4) 下線部③に関して、特定の販売方法において、一定期間内であれば契約を取り消すことができる制度を何というか。

(5) 下線部④に関して、氏名や国籍などの個人の私生活に関する情報を、他人に知られたり、勝手に利用されたりしないために、主張されている新しい人権を何というか。

(6) 下線部⑤に関して、図は、裁判員に選ばれた人の、選ばれる前の気持ちと裁判に参加した後の感想を示している。裁判員制度の導入のねらいについて、図から読み取れることにふれ、「国民の理解」の語を用い、簡潔に書きなさい。

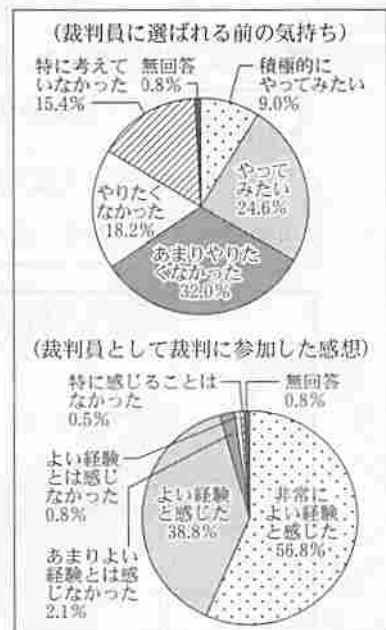


図
〔最高裁判所ホームページ〕により作成

7 まさとさんは、社会科のまとめとしての課題研究に、「A市の魅力をいかしたまちづくり」を取り上げ、A市の課題を「観光の充実」ととらえ、その方法を提案することにした。図1から図5は、その課題研究の発表時に使うスライドの一部である。次の1から4までの問いに答えなさい。



図1

1 図2の下線部④を説明するために、まさとさんが作成した次の文中の に当てはまる語は何か。

A市には、川が山地から平野に流れ出るときに堆積した土砂でできる という果樹栽培に適した地形が広がっています。

A市の魅力を発信して外国人観光客をもっと呼びこもう!

- ・甘い③ぶどう・桃の栽培
- ・日本最大級の①医学博物館
- ・歴史ある町なみと城郭
- ・節分や七夕などの②年中行事

図2

2 図2の下線部①の展示は、古代、中世、近世、近代の時代区分から構成されている。次のI、IIの展示内容と時代区分の組み合わせとして正しいのはどれか。

I - 『解体新書』～杉田玄白、解剖書の翻訳にかけた情熱～

II - 海を越えて日本へ～鑑真、仏教とともに薬を伝える～

ア I - 近世 II - 古代 イ I - 近代 II - 古代

ウ I - 近世 II - 中世 エ I - 近代 II - 中世

外国人観光客に聞いたA市観光で困ったことは? 最も多かった意見

- ・観光マップが分かりにくい

→この問題点を解決しよう!

図3

3 図2の下線部②に関して、田植えの時期と最も関わりの深いのはどれか。

ア 成人式 イ 端午の節句 ウ 盆おどり エ 七五三

4 まさとさんは、図3の問題点を解決するための一つとして、図4の観光マップを改善し、図5のように提案した。改善した点を説明するために作成した、次の文中の X 、 Y に当てはまる文をそれぞれ簡潔に書きなさい。

一つ目は、外国人観光客が読めるように、 X しました。二つ目は、外国人観光客だけでなく、多くの人々にも分かりやすいように、 Y しました。

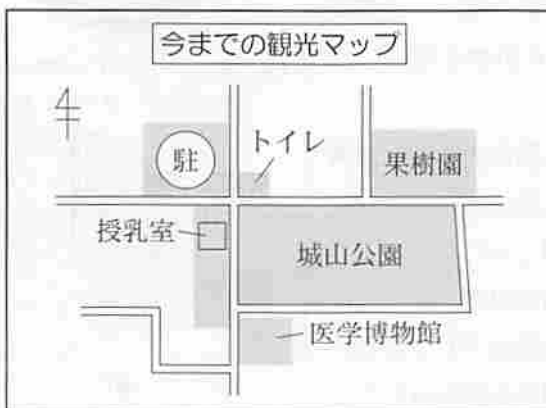


図4



図5