

平成 29 年度入学者選抜学力検査問題

社 会

注 意

- 1 監督者の「始め」の合図があるまでは、開いてはいけません。
- 2 検査時間は、10時35分から11時20分までの45分間です。
- 3 大きな問題は全部で7問で、表紙を除いて7ページです。
また、別に解答用紙が1枚あります。
- 4 監督者の「始め」の合図があったら、すぐに受検番号をこの表紙と解答用紙のきめられた欄に書きなさい。
- 5 答えは、必ず解答用紙のきめられた欄に書きなさい。
また、特に指示のあるもののほかは、各問いのア、イ、ウ、エのうちから最も適当なものをそれぞれ一つ選んで、その記号を解答欄の()の中に書き入れなさい。
- 6 「に当てはまる語を書きなさい」などの問いについての答えは、一般に数字やカタカナなどで書くもののほかは、できるだけ漢字で書きなさい。
- 7 監督者の「やめ」の合図があったら、すぐやめて、筆記用具をおきなさい。

受 検 番 号	番
---------	---

1 次の1, 2の問いに答えなさい。

1 次の(1)から(4)までの文中の [] に当てはまるのはどれか。

(1) ヨーロッパ北西部では、穀物栽培と家畜の飼育を組み合わせた [] が行われてきた。

ア 二期作 イ 焼畑農業 ウ 混合農業 エ 遊牧

(2) 平安時代のはじめ、[] は、蝦夷を征討するため、東北地方に坂上田村麻呂を征夷大將軍として派遣した。

ア 聖武天皇 イ 天武天皇 ウ 後醍醐天皇 エ 桓武天皇

(3) 鎌倉時代、武士の活躍を描いた軍記物が生まれ、なかでも [] は、琵琶法師によって語られ、多くの人々に広まった。

ア 源氏物語 イ 平家物語 ウ 古事記 エ 徒然草

(4) 刑事裁判は、[] が、罪を犯した疑いのある人を被告人として、裁判所に起訴することによって始められる。

ア 検察官 イ 弁護士 ウ 裁判員 エ 裁判官

2 次の(1)から(4)までの文中の [] に当てはまる語を書きなさい。

(1) 南アメリカ大陸の太平洋側には、高い山々が南北に連なっており、[] 山脈とよばれている。

(2) 自然災害による被害の可能性や避難場所などをわかりやすく示した地図を [] マップとよぶ。

(3) 1872年、明治政府は、すべての国民が学校で教育を受けられるよう、[] という法令を公布し、小学校を義務教育と定めた。

(4) 国や地方公共団体が、道路、港湾、公園、上下水道などの社会資本を建設・整備することを [] という。

2 太郎さんのクラスでは、班ごとに様々な課題に取り組みながら、アフリカ州について学習した。次の1から4までの問いに答えなさい。

1 A班は、人口が10万人以上の都市を点で示したアフリカ州とヨーロッパ州の地図をそれぞれ作成して、二つを比較しながら、アフリカ州の人口分布の特徴をまとめようとした。次の文は、このことに関する先生からの助言である。[I]、[II] に当てはまる語の組み合わせとして正しいのはどれか。

A班は、点の密集の度合いで人口分布を表現する地図を作るのですから、「[I] が正しい地図」を用いるとよいでしょう。その理由は、「緯線と経線が直角に交わる地図」を用いてしまうと、アフリカ州に比べて緯度の高いヨーロッパ州は、点の密集の度合いが [II] 表現されるため、誤った印象を与えるからです。

ア I - 中心からの距離と方位 II - 高く イ I - 面積 II - 高く
ウ I - 中心からの距離と方位 II - 低く エ I - 面積 II - 低く

2 B班は、アフリカ州の位置や気候について調べた。次の(1)、(2)の問いに答えなさい。

(1) 図1は、「緯線と経線が直角に交わる地図」の一部である。緯線a、bの緯度、経線c、dの経度の組み合わせとして正しいのはどれか。

ア a - 北緯 20 度
b - 南緯 60 度
c - 西経 40 度
d - 東経 40 度

イ a - 北緯 40 度
b - 南緯 40 度
c - 西経 20 度
d - 東経 60 度

ウ a - 北緯 40 度
b - 南緯 40 度
c - 西経 40 度
d - 東経 40 度

エ a - 北緯 20 度
b - 南緯 60 度
c - 西経 20 度
d - 東経 60 度

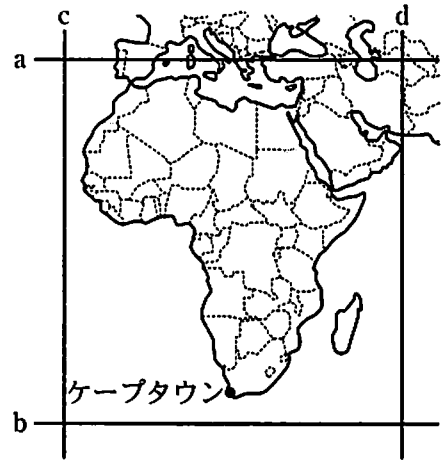


図1

(2) アフリカ州のおもな都市を気候の特徴に基づき、図2を用いて分類すると、図1のケープタウンが当てはまるのは図2のア、イ、ウ、エのどれか。次のメモを参考にして答えなさい。

ケープタウンは、アフリカ州の最も北の地点と同じ気候区分で、夏季よりも冬季に降水量が多い地中海性気候である。

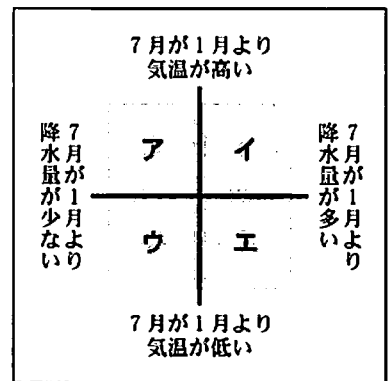


図2

3 C班は、アフリカ州の経済について調べた。

その結果、アフリカ州には、モノカルチャー経済とよばれる経済構造の国が多く、特定の品目に偏った輸出を行うため、経済が不安定であることに気付いた。図3は、C班がモノカルチャー経済の例として示したある国の輸出統計(2012年)である。Xはどれか。

ア 金 イ 石油製品 ウ 自動車 エ 機械類

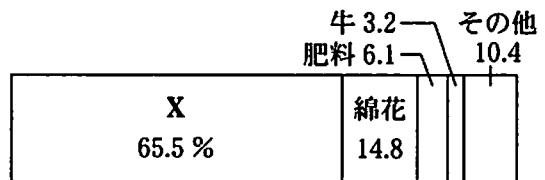


図3 (『データブックオブザワールド』により作成)

4 D班は、アフリカ州におけるおもな国の公用語と植民地支配との関係を調べた。その結果、かつてイギリスの植民地であったエジプトとナイジェリアを比べると、現在、エジプトの公用語は英語ではないが、ナイジェリアの公用語は英語であることがわかった。ナイジェリアの公用語が英語になった理由を、図4をもとに「共通する言語」の語を用いて書きなさい。

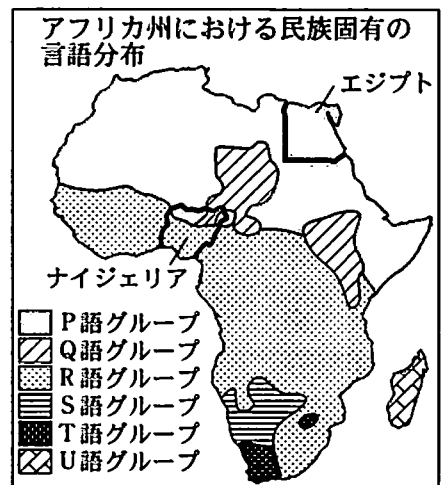


図4 (『国立民族学博物館資料』ほかにより作成)

3 ひかるさんは、中部地方について学習した。次の1から5までの問いに答えなさい。

1 次の文中の に当てはまる語を書きなさい。

中部地方には、高い山々からなる日本アルプスがそびえている。その東側には とよばれるみぞ状の地形があり、これを境にして、本州の東と西では地形や岩石が大きく異なる。

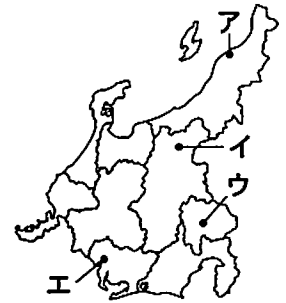


図1

2 ひかるさんは、図1に示した四つの都市について、それぞれの降水量を図2にまとめた。A市は、図1のA、I、U、Eのどれか。

	A市	B市	C市	D市
6月～8月の月平均降水量(mm)	153.5	177.0	134.9	113.8
12月～2月の月平均降水量(mm)	175.3	53.0	39.5	48.8
年降水量(mm)	1821.0	1535.3	1135.2	932.7

図2 (「気象庁ホームページ」により作成)



図3 (国土地理院発行5万分の1地形図により作成)

3 ひかるさんは、東海地方の産業の特色をいくつかの地形図を使って調べた。図3の地形図から読み取れるのはどれか。

- A この地域には台地が広がり、果樹の栽培が盛んに行われている。
- I この地域には台地が広がり、茶の栽培が盛んに行われている。
- U この地域には扇状地が広がり、果樹の栽培が盛んに行われている。
- E この地域には扇状地が広がり、茶の栽培が盛んに行われている。

4 ひかるさんは、中部地方では新潟県、長野県、静岡県、愛知県に宿泊者が多いことを知り、どのような目的で宿泊しているかを調べ、図4にまとめた。愛知県は、図4のA、I、U、Eのどれか。

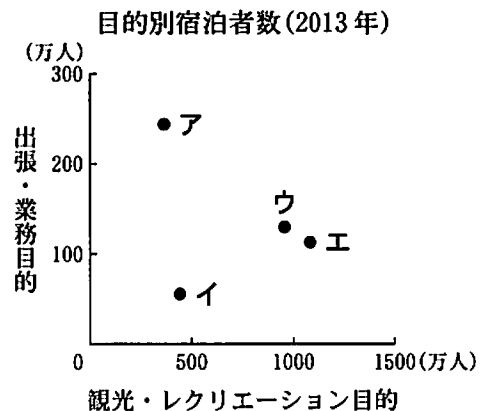


図4 (「宿泊旅行統計調査」により作成)

5 ひかるさんは、富山県にアルミ産業が根付いていることを知り、その背景を示す図5、図6、図7の資料を用意した。アルミ産業が富山県に根付いた理由を図5、図6、図7からわかることにふれ、簡潔に書きなさい。

- ・鉄1トンの生産に10～80 kWhの電力が必要である。
- ・アルミ1トンの生産に約15000 kWhの電力が必要である。

図5 (「石油天然ガス金属鉱物資源機構ホームページ」ほかにより作成)

	東北電力	北陸電力	関西電力	九州電力	全国平均
1957年度の電力価格(円/kWh)	3.8	2.8	4.6	4.6	4.1

図6 (「北陸経済研究所1983」により作成)

- ・富山県は古くから銅器の加工技術が高い地域であった。
- ・銅とアルミの加工技術には共通した部分が多い。

図7

4 次は、栃木県の交通の歴史についてまとめたものである。これを読んで、1から7までの問いに答えなさい。

<p>古代 ④律令国家のしくみとして、中央と地方を結ぶ道路が整備された。役人は、道路に設置された I を利用して、都と諸国の間を行き来した。下野には、東山道が通り、道沿いには、国府や多くの役所、寺などが置かれた。</p>	<p>中世 源頼朝が、鎌倉につながる街道を整備したことで、⑥各地の御家人たちは、鎌倉への往来が容易になった。下野は、東北へ向かう奥大道(鎌倉街道)が通っていたので、交通の要地として重要視された。</p>
<p>近世 下野では、五街道である日光道中・奥州道中のほか多くの街道が整備された。◎日光社参などの影響もあり、街道は大いににぎわった。また、①海上・水上交通の発達により、下野は、東北と江戸を結ぶ重要な拠点として、大きな役割を果たした。</p>	<p>近代 1872年、新橋・横浜間に鉄道が開通した。栃木県においては、1885年に上野・宇都宮間が開通、翌年には黒磯まで伸びた。さらに、その後も両毛線や日光線などが開通した。なかでも両毛線は、栃木・群馬両県の◎近代織物産業の発展に貢献した。</p>

- 1 下線部④に関して、おもに東国の農民が、九州北部の防衛につく兵役を何というか。
- 2 文中の **I** に当てはまるのはどれか。
ア 飛脚 イ 駅 ウ 馬借 エ 問(問丸)
- 3 次の説明は、下線部⑥に関して、将軍と御家人の主従関係をまとめたものである。
II に当てはまる語を書きなさい。

御 恩 = 将軍が御家人の領地の保護をしたり、手柄に応じて新しい土地を与えたりすること。

II = 御家人が京都や鎌倉の警備についたり、合戦に参加したりする義務のこと。

- 4 中世の社会や経済について、正しく述べているのはどれか。
ア 和同開珎が作られ、ものと交換できる貨幣の流通がはかられた。
イ 御蔭参りが流行し、多くの人が伊勢神宮に参詣した。
ウ 寺社の門前などに、毎月決められた日に定期市が開かれるようになった。
エ 商人は、株仲間をつくり、幕府や藩の許可を得て営業を独占した。

- 5 下線部◎に関して、将軍の代替わりを祝うためなどに派遣された朝鮮からの使節は、日光へも参詣したとの記録がある。この朝鮮使節を何というか。
- 6 下線部①に関して、江戸時代に河川を利用した水運が発達した理由を図1をもとに書きなさい。また下野で河岸(川の港)が栄えたのはどのような場所か、図2をもとに書きなさい。

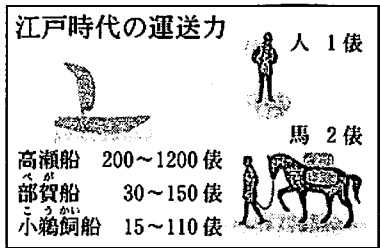


図1 「もっと学ぼう! 栃木県」により作成

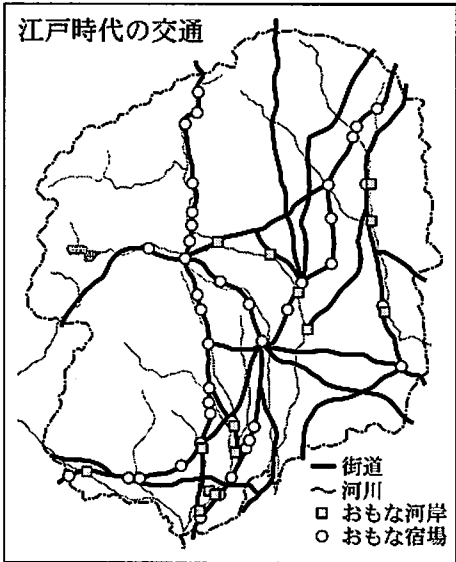


図2 「江戸とつながる川の道」ほかにより作成

- 7 下線部◎に関して、開国直後から日本のおもな輸出品であり、日露戦争後には、輸出量が世界1位となった品目は何か。

5 略年表を見て、次の1から5までの問いに答えなさい。

1 次の説明は、Aの不平等な内容についてまとめたものである。□に当てはまる語を書きなさい。

・領事裁判権を認める
日本国内で罪を犯したアメリカ人は、アメリカの領事が裁判し、日本側では裁くことができない。

・□権がない
アメリカからの輸入品にかかる税金の率を日本が決定することができない。

年代	対外的な交渉
1858	日米修好通商条約……………A
1875	樺太・千島交換条約……………B
1905	ポーツマス条約……………C
	↑ D ↓
1941	日ソ中立条約
1951	サンフランシスコ平和条約…E

2 Bによって、日本の領土として新たに画定された範囲は、図1のア、イ、ウ、エのどれか。

3 Cの内容に対して政府への批判が高まり、東京では日比谷焼き打ち事件が起きた。この事件が起きた理由を、図2と当時の国民生活を表した風刺画である図3をふまえ、「増税」の語を用いて簡潔に書きなさい。

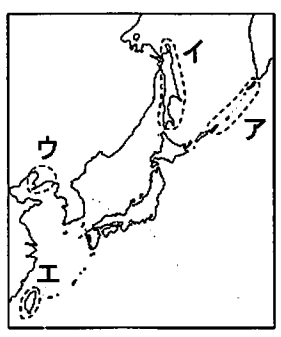


図1

	日清戦争	日露戦争
死者数	約13000人	約84000人
戦費	約2.0億円	約17.2億円
賠償金	約3.1億円	なし

図2

(「ビジュアルワイド明治時代館」ほかにより作成)



図3

(「東京バック」により作成)

4 次のア、イ、ウ、エは、Dの時期に起きたできごとである。年代の古い順に並べなさい。

- ア 二・二六事件が起こる。
- イ 大政翼賛会が発足する。
- ウ 五・一五事件が起こる。
- エ 原敬内閣が成立する。

5 Eの締結と同時に行われたのはどれか。

- ア 日本への沖縄返還
- イ 日中平和友好条約の締結
- ウ 日本の国際連合加盟
- エ 日米安全保障条約の締結

6 次の1、2の問いに答えなさい。

1 次の(1)から(5)までの問いに答えなさい。

- (1) 新たな技術や高度な知識で、革新的な事業を展開する中小企業を何というか。
- (2) 商品の価格や在庫、発注などをコンピュータで管理し、商品の製造や流通において飛躍的な効率化を実現したシステムを何というか。
- (3) 次の文中の□に当てはまるのはどれか。

世界各地で貿易の自由化など経済関係の強化を図る動きが強くなり、1989年には、アジア太平洋地域でAPECが、1994年には、アメリカ、カナダ、メキシコの3か国で□が発足した。

- ア TPP
- イ ASEAN
- ウ NAFTA
- エ WTO

- (4) 円高が進んだ場合、その影響として最も適切なのはどれか。
- ア 輸入自動車の価格が高くなる。 イ 日本企業の海外移転が増える。
ウ 輸出企業の利益が増える。 エ 海外旅行をする日本人が減る。
- (5) 企業の社会的責任として、当てはまらないものを次のア、イ、ウ、エのうちから一つ選びなさい。

- ア 文化活動やボランティア活動などを積極的に支援する。
イ 良質な財やサービスを適正な価格で提供する。
ウ 販売価格などについて同一業種の企業と協定を結ぶ。
エ 経営実績や業務内容に関する情報を正しく公開する。

2 次は、あゆみさんが国や地方の政治についてまとめたものの一部である。これを読んで(1)から(5)までの問いに答えなさい。

・日本国憲法には、㉔国民が主権者であり、㉕国会における代表者を通じて行動することが示されている。

・㉖地方自治は「民主主義の学校」とよばれ、住民が自らの意思と責任で政治に取り組むしくみである。㉗地方財政では、財源を確保するための努力や工夫が求められている。

(1) 下線部㉔に関して、次の文は、ある人物が1863年にゲティスバーグで行った演説の一部である。この演説を行った人物は誰か。

人民の人民による人民のための政治が、この地球上から消え去ることがあってはならないのである。

(2) 下線部㉕に関して、国会の信任に基づいて内閣が組織され、国会に対し連帯して責任を負う制度を何というか。

(3) 下線部㉖に関して、地方公共団体が独自に制定できる法を何というか。

(4) 地方公共団体の住民の政治参加について述べた文として、正しいのはどれか。

- ア 地方議会の議員を選ぶ選挙権年齢は、満20歳以上と定められている。
イ 地方議会の解散は、有権者の3分の1以上の署名により、首長に請求する。
ウ 都道府県知事の被選挙権年齢は、満25歳以上と定められている。
エ 事務の監査請求には、有権者の50分の1以上の署名が必要である。

(5) 下線部㉗に関して、あゆみさんは図1から地方財政の歳入には、自主財源の割合が減少しているという課題があることに気付いた。また、図2は国や地方公共団体が地域活性化に向けて取り組んでいる政策の一部であり、あゆみさんはこれらの取り組みが図1で気付いた課題の解決につながると考えた。あゆみさんが、そのように考えた理由を、図2にある具体的な政策の一つを取り上げ、「人口」の語を用いて、簡潔に書きなさい。

地方財政歳入項目別割合

(年度)	地方税	地方交付税	国庫支出金	地方債	その他
1990	39.3%	16.8	12.5	7.5	23.9
2013	35.0%	17.4	16.3	12.2	19.1

図1 (「数字でみる日本の100年」ほかにより作成)

- ① しごとの創生
- ・地方において若者向けの雇用をつくる。
 - ・企業を積極的に誘致する。
 - ・地域産業の活性化を図る。
- ② ひとの創生
- ・地方への新しいひとの流れをつくる。
 - ・地方への移住を促進する。
- ③ まちの創生
- ・若者、高齢者、障害者など、誰もが活躍できる地域社会の実現。

図2 (「まち・ひと・しごと創生本部ホームページ」ほかにより作成)

7 めぐみさんは、社会科のまとめとしての課題研究に、資源・エネルギー問題を取り上げることにした。次は、レポート作成に向けてまとめたものの一部である。これを読んで、1から4までの問いに答えなさい。

〈調べてわかったこと〉

- ・②日本の電力の多くは、火力発電でまかなわれていて、燃料である①石油、石炭、天然ガスなどは輸入に頼っている。
- ・世界のおもな③化石燃料の可採年数は、石油 53 年、石炭 110 年、天然ガス 54 年とされている。

1 下線部②に関して、めぐみさんは図1を作成した。図1から読み取れることはどれか。

- ア 日本全体の発電量の変化
- イ 電力供給源の割合の変化
- ウ 電力供給源ごとの発電量の変化
- エ 日本の発電所数の変化

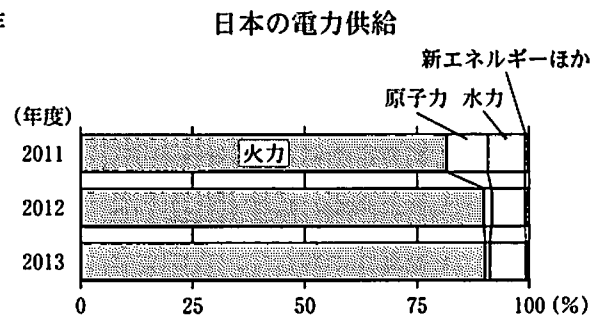


図1 (「日本の統計」により作成)

2 下線部①に関して、次の文中の I に当てはまるのはどれか。

日本では1955年から I が始まり、テレビなどの電化製品が普及するなど、国民の生活水準が高まった。しかし、1973年に中東戦争の影響で原油価格が引き上げられて I は終わった。

- ア 大戦景気
- イ 朝鮮特需(特需景気)
- ウ 高度経済成長
- エ バブル経済

3 下線部③の使用によって排出される二酸化炭素など、地球温暖化の原因とされる気体を総称して何というか。

4 めぐみさんは、電力の消費と供給について調べ、日本とヨーロッパのおもな国を比較し、図2、図3を作成したところ、日本には、持続可能な社会の実現に向けて課題があることに気付いた。その課題を、図2、図3からわかることにふれ、簡潔に書きなさい。

一人当たりの年間電力消費量(2012年)

日本	フランス	ドイツ	イタリア
7753 kWh	7367 kWh	7138 kWh	5277 kWh

図2 (「原子力・エネルギー図面集 2015」により作成)

電力供給量に占める再生可能エネルギーの割合(2012年)

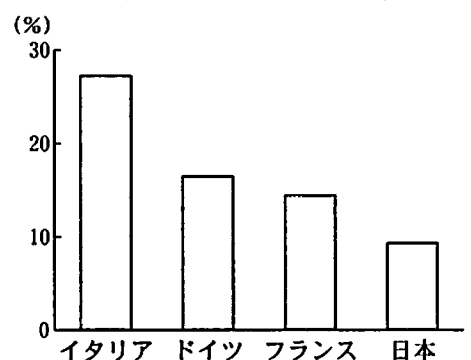


図3

(「データブックオブザワールド」により作成)