

平成 28 年度入学者選抜学力検査問題

社 会

注 意

- 1 監督者の「始め」の合図があるまでは、開いてはいけません。
- 2 検査時間は、10時35分から11時20分までの45分間です。
- 3 大きな問題は全部で7問で、表紙を除いて7ページです。
また、別に解答用紙が1枚あります。
- 4 監督者の「始め」の合図があったら、すぐに受検番号をこの表紙と解答用紙のきめられた欄に書きなさい。
- 5 答えは、必ず解答用紙のきめられた欄に書きなさい。
また、特に指示のあるもののほかは、各問いのア、イ、ウ、エのうちから最も適当なものをそれぞれ一つ選んで、その記号を解答欄の()の中に書き入れなさい。
- 6 「に当てはまる語を書きなさい」などの問いについての答えは、一般に数字やカタカナなどで書くもののほかは、できるだけ漢字で書きなさい。
- 7 監督者の「やめ」の合図があったら、すぐやめて、筆記用具をおきなさい。

受 検 番 号	番
---------	---

1 次の1, 2の問いに答えなさい。

1 次の(1)から(4)までの文中の [] に当てはまるのはどれか。

(1) 日本には栃木県や [] のように、海に面していない県が全部で8県ある。

ア 愛知県 イ 奈良県 ウ 香川県 エ 佐賀県

(2) 平安時代末、法然は [] を開いて、ひたすら念仏を唱えれば極楽浄土に生まれ変わることができる」と説いた。この教えは、鎌倉時代に武士や民衆の間に広まった。

ア 真言宗 イ 浄土宗 ウ 禅宗 エ 天台宗

(3) 1894年、外務大臣 [] の時、日本はイギリスとの間に日英通商航海条約を結び、領事裁判権の撤廃に成功した。

ア 陸奥宗光 イ 伊藤博文 ウ 岩倉具視 エ 小村寿太郎

(4) アジア太平洋地域における経済協力を目指す会議として [] が開催されており、日本も設立当初から参加している。

ア WTO イ ASEAN ウ APEC エ NAFTA

2 次の(1)から(4)までの文中の [] に当てはまる語を書きなさい。

(1) 北アメリカ大陸で最も長い河川は、 [] 川である。

(2) 5万分の1の地形図上で4cmの長さは、実際の距離に直すと [] kmである。

(3) 15世紀はじめに尚氏が建てた [] 王国は、首里を都とし、中継貿易で栄えた。

(4) 日本国憲法は、 [] を基本原則の一つにしており、第9条では、戦争や武力の行使などを、国際紛争を解決する手段として永久に放棄すると定めている。

2 次の1, 2, 3の問いに答えなさい。

1 図1は、中心からの距離と方位が正しい地図であり、中心は東京である。図1に関して正しく述べているのはどれか。

ア 赤道上に位置するP地点から見て、東京は真東である。

イ Q地点と東京を最短距離で結ぶ線は、日付変更線と交わる。

ウ 地球1周を4万kmとすると、R地点と東京の最短距離は1万kmである。

エ 東京とS地点を結ぶ直線は、緯線と経線が直角に交わる地図においても直線である。

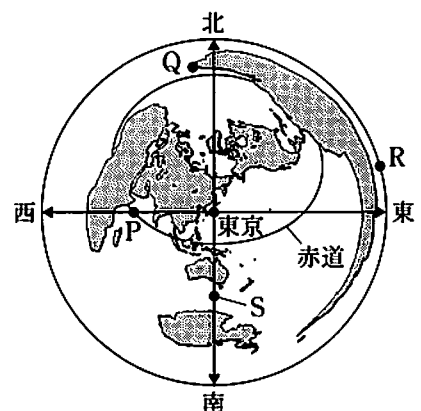


図1

2 図2は、オーストラリア大陸、アフリカ大陸、南アメリカ大陸それぞれの面積に占める気候帯の割合を示している。図2に関して述べた、次の文中の [I] , [II] に当てはまる語の組み合わせとして正しいのはどれか。

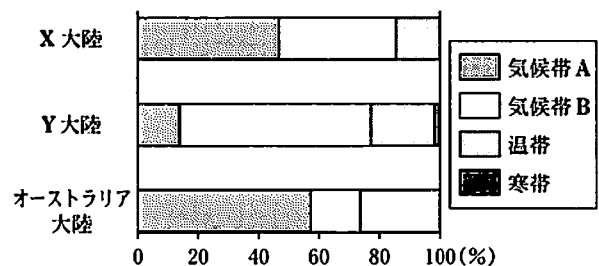


図2 (「データブックオブザワールド」により作成)

気候帯 A は **I** であり、X 大陸は **II** である。

- ア I - 熱帯 II - アフリカ大陸
- イ I - 熱帯 II - 南アメリカ大陸
- ウ I - 乾燥帯 II - アフリカ大陸
- エ I - 乾燥帯 II - 南アメリカ大陸

3 太郎さんは、オーストラリアについて学習した。

次の(1), (2), (3)の問いに答えなさい。

(1) 図3は、オーストラリアの貿易相手国の変化を示している。図3のZは、かつてオーストラリアを植民地としていた国で、Zの国旗はオーストラリア国旗の中にも描かれている。Zは何か。

(2) 太郎さんは、2010年のオーストラリアの貿易について、一つの地図上で輸出額と輸出相手国、輸入額と輸入相手国を表そうと考えた。その際、太郎さんが用いるべき表現方法として、最も適切なものは、次のア、イ、ウ、エのうちどれか。

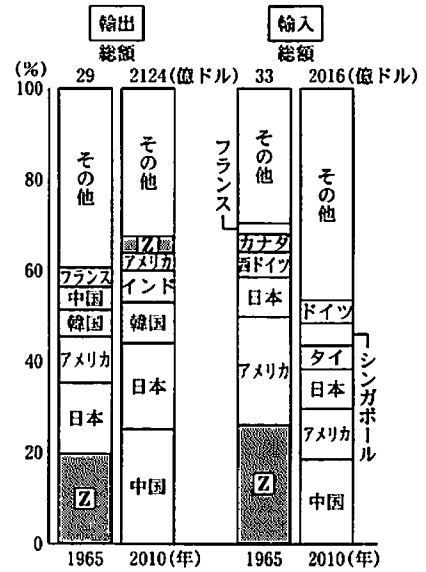


図3

([International Trade Statistics Yearbook]により作成)

ア 数値を点にして、その密集の度合いで表現する。

イ 矢印の向きと太さによって表現する。

ウ 等しい数値の地点を結んだ線で表現する。

エ 階級ごとの色分けによって表現する。

(3) 太郎さんは、オーストラリアの全人口に占めるキリスト教徒の割合が減少していることを知り、オーストラリアへの移住者の出身地域が変化したからではないかと予想した。太郎さんは、図4を使って自分の予想が正しいことを説明しようとしたが、図4から読みとれる内容だけでは、キリスト教徒の割合が減少した理由の説明には不十分であることに気づいた。太郎さんは、ほかにどのようなことを説明する必要があるか、簡潔に書きなさい。

オーストラリアへの移住者の出身地域

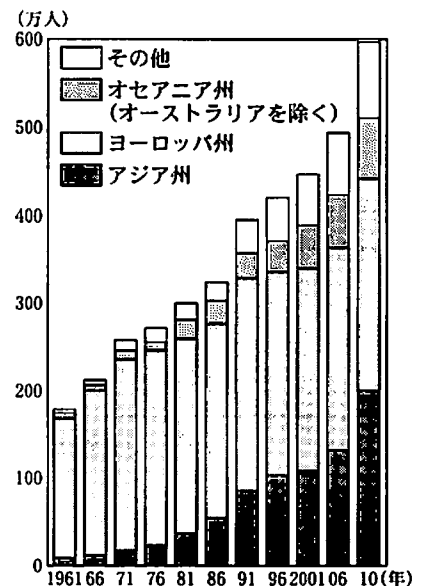


図4

([Australian Immigration]により作成)

- 3 次の文は、かずみさんが東北地方について学習したことをまとめたものの一部である。これを読んで、1から4までの問いに答えなさい。

東北地方は、中央に **I** 山脈がはしり、山がちである。平野や盆地には人口が集中し、**㊸**農業をはじめとする産業が盛んである。また、三陸沖は寒流と暖流がぶつかる **II** となっているため、条件の良い漁場である。

この地方では、古くから発達してきた**㊹**伝統的工芸品をつくる産業が見られる一方で、近年では**㊺**さまざまな工場が進出し、各地に工業団地が形成されている。

- 1 文中の **I** , **II** に当てはまる語をそれぞれ書きなさい。

- 2 下線部**㊸**に関して、図1は北海道地方、東北地方、関東地方それぞれの農業産出額に占める米、野菜、果実、畜産の割合(2010年)を示したものである。果実の割合はどれか。

	ア	イ	ウ	エ	その他	計
北海道	51.7%	10.7%	0.5%	20.4%	16.7%	100%
東北	31.6	30.4	13.9	18.6	5.5	100
関東	27.3	16.4	4.1	41.6	10.6	100

図1 (「生産農業所得統計」により作成)

- 3 下線部**㊹**に関して、かずみさんは漆器づくりについて調べ、図2にまとめた。さらに、ア、イ、ウ、エのうち、二つのことには関連性があると考え、そのことを説明するために図3をまとめた。かずみさんが関連性があると考えたことを図2から二つ選びなさい。

ア 外で作業ができない冬の間の副業として発達した。
 イ 地元で豊富に手に入る材料を使って、つくられるようになった。
 ウ 漆の乾燥には、適度な湿度が必要である。
 エ 近年の課題は、後継者不足である。

図2

都市名(漆器名)	年間雪日数(2010年)
青森市(津軽塗)	111日
会津若松市(会津塗)	100
輪島市(輪島塗)	67
福井市(越前漆器)	54
全国平均	32

図3

(「気象庁ホームページ」により作成)

- 4 下線部**㊺**に関して、かずみさんは1970年と2010年の秋田県の工業生産額に占める割合の上位4品目を調べ、図4にまとめた。そして、電子部品の割合が大きく増えていることに気づいた。電子部品をつくる工場が秋田県に進出するようになった背景を、図5からわかることにふれ、簡潔に書きなさい。なお、「原材料」、「製品」の語を用いること。

	1位	2位	3位	4位
1970年	木材・木製品 27.5%	食料品 18.3%	非鉄金属 15.1%	電気機械器具 9.1%
2010年	電子部品 26.9	食料品 8.6	生産用機械器具 7.7	化学工業製品 7.4

図4 (「工業統計調査」により作成)

1981年 秋田空港の使用開始
 1991年 秋田自動車道の部分開通
 1994年 秋田自動車道が東北自動車道と接続
 1997年 秋田自動車道の全線開通
 1998年 大館能代空港の使用開始
 2001年 秋田自動車道が日本海東北自動車道と接続

図5 (「秋田県ホームページ」ほかにより作成)

4 図1は、古代から近世にかけての日本と外国とのかかわりに関する主なできごとやキーワードをまとめたものである。これを見て、1から7までの問いに答えなさい。

1 Aの後の日本国内の状況について説明した次の文中の 、 に当てはまる語の組み合わせとして正しいのはどれか。

時代	できごと・キーワード	時代	できごと・キーワード
飛鳥時代	白村江の戦い………A	戦国時代	鉄砲伝来………E
奈良時代	正倉院………B	江戸時代前期	鎖国政策………F
鎌倉時代	元寇………C	江戸時代後期	異国船打払令………G
室町時代	日明貿易………D		

図1

壬申の乱に勝って即位した によって、天皇中心の政治が強力におし進められ、新しい都づくりのほか、歴史書や律令の編さんが始まった。その後、701年には唐の律令を手本として大宝律令がつくられ、710年には都が に移されて中央集権国家の整備が進んだ。

- ア I - 天智天皇 II - 平安京 イ I - 天智天皇 II - 平城京
 ウ I - 天武天皇 II - 平安京 エ I - 天武天皇 II - 平城京

2 Bには図2のような、一つのものに異なる国や地域の文化の特徴が表れているものが納められている。このことに象徴される天平文化の特色を、「遣唐使」の語を用いて簡潔に書きなさい。



図2

(「正倉院の宝物」ほかにより作成)

3 Cの後の鎌倉幕府の政治について述べているのはどれか。

- ア 幕府は、御家人救済のために徳政令を出したが、かえって社会を混乱させた。
 イ 幕府は、武家社会の慣習をまとめた御成敗式目を定め、支配の安定化をはかった。
 ウ 幕府では、北条氏が将軍の力を弱めて政治の実権を握り、執権政治を始めた。
 エ 幕府は、承久の乱に勝利し、京都に六波羅探題を置いて朝廷を監視した。

4 Dでは、正式な貿易船には勘合という証明書が与えられ、大陸沿岸で密貿易や略奪行為を行った海賊的集団と区別された。この海賊的集団を何というか。

5 次の文中の に当てはまる語を書きなさい。

Eの後、日本はポルトガル人やスペイン人と南蛮貿易を行うようになった。この貿易では、鉄砲や火薬のほか中国産の生糸などがもたらされ、日本は、当時の世界産出量の3分の1を占めていた を輸出した。

6 Fは、徳川家光のときに徹底された。Fのほかに家光が行った政策について述べているのはどれか。

- ア 幕府の学問所では、朱子学以外の学問を禁じて世の中の引きしめをはかった。
 イ ものさしやますを統一し、全国の田畑の面積や土地のよしあしを調べた。
 ウ 参勤交代の制度を定め、大名が領地と江戸に1年ごとに住むことを義務づけた。
 エ 株仲間をつくることを奨励し、独占的な営業権を認めるかわりに税を課した。

7 Gを見直し、外国船に水や燃料を与えて退去させる方針に転換するきっかけとなった戦争は何か。

5 略年表を見て、1から5までの問いに答えなさい。

1 Aから始まった自由民権運動について述べた次の文中の **I**、**II** に当てはまる語の組み合わせとして正しいのはどれか。

政府に不満をもった鹿児島の上族などがおこした **I** 戦争が鎮圧されると、政府に対する批判は武力ではなく、言論によるものが中心となっていた。
II らを中心に自由民権運動が広まりを見せ、1880年には国会期成同盟が結成された。

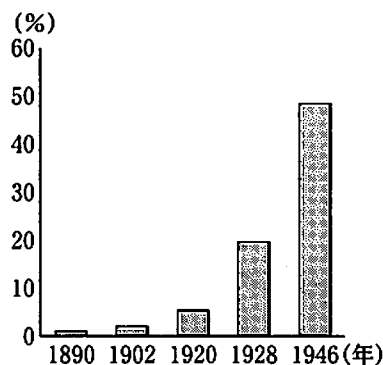
年代	できごと
1874	民撰議院設立の建白書が提出される… A
1918	シベリア出兵が始まる…………… B
1925	普通選挙法が公布される…………… C
1941	太平洋戦争がおこる……………
1945	日本が D 宣言を受諾する
"	選挙法が改正される…………… E

- ア I - 西 南 II - 板垣退助
イ I - 西 南 II - 西郷隆盛
ウ I - 戊 辰 II - 板垣退助
エ I - 戊 辰 II - 西郷隆盛

2 Bの影響を受けておこった日本のできごとはどれか。

- ア 講和条約の内容に納得しなかった民衆が、交番や新聞社などを襲う事件をおこした。
イ 米価が大幅に上がり、安売りを求める民衆が米屋を襲うなどの事件が全国でおこった。
ウ 戦争の賠償金を使って、官営の八幡製鉄所が建設され、日本の重工業発展の基礎となった。
エ 樺太・千島交換条約がロシアとの間に結ばれ、両国の国境が確定した。

3 CとEについて、図は衆議院議員選挙における全人口に占める有権者の割合の推移を表したものである。このうち1928年と1946年に有権者の割合が大幅に増えている。それはなぜか。CとEそれぞれの選挙資格にふれ、簡潔に書きなさい。



4 次のア、イ、ウ、エは、②の時期におきたできごとである。年代の古い順に並べなさい。

- ア 日中戦争がおこる。 イ 日本が国際連盟を脱退する。
ウ 世界恐慌がおこる。 エ 満州事変がおこる。

5 年表中の **D** に当てはまる語を書きなさい。

〔総務省ホームページにより作成〕

6 次の1、2の問いに答えなさい。

1 中学生のゆみさんと先生の会話文の一部を読んで、次の(1)から(5)までの問いに答えなさい。

ゆみ：「昨年、公職選挙法が改正されて、満18歳から投票できるようになりましたね。」
先生：「そうですね。今年の夏に予定されている②参議院議員選挙から適用される見込みです。」
ゆみ：「私たちは、何をもとに考え、投票すればよいのですか。」
先生：「現在、皆さんは、社会科の学習で民主的な国家のあり方や①日本国憲法について学び、現代社会の中のさまざまな課題について考えています。そのことが、きっと判断材料の一つになるはずです。」
ゆみ：「だから学校で学ぶことは大切なんですね。」
先生：「また、③社会のできごとに関心をもつことも大切です。日頃から新聞やテレビなどの **A** を上手に活用して、社会の動きに目を向けてくださいね。」
ゆみ：「はい。学んだことを生かし、④国会議員などを選ぶ選挙に臨もうと思います。」

(1) 下線部④に関して、参議院議員の被選挙権は満何歳以上の国民に与えられているか。

(2) 下線部⑤に関して、日本国憲法に定められている天皇の国事行為はどれか。

ア 法律の制定 イ 条約の承認 ウ 国会の召集 エ 予算の審議

(3) 下線部⑥に関して、次の文中の に当てはまる語を書きなさい。

高度経済成長期に各地で公害が深刻化すると、国は公害対策基本法を制定し、対策に乗り出した。さらに、1993年に環境の保全に関する施策を示した 法を制定した。

(4) 会話文中の A に当てはまるのはどれか。

ア サミット イ マニフェスト ウ リコール エ マスメディア

(5) 下線部⑦に関して、次の文中の I、 II に当てはまる語の組み合わせとして正しいのはどれか。

衆議院は、参議院に比べ定数が多く、任期が I。また、解散が II。そのため、参議院に比べ、より国民の意見を反映させることができると考えられている。

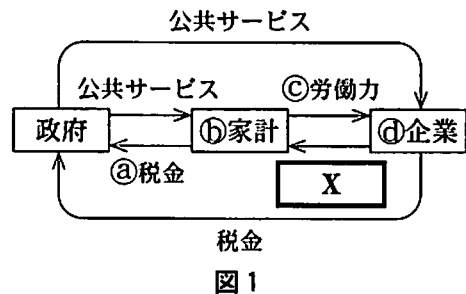
ア I—長い II—ある イ I—短い II—ある

ウ I—長い II—ない エ I—短い II—ない

2 図1は、まさおさんが経済のしくみについてまとめたものである。これを見て、(1)から(5)までの問いに答えなさい。

(1) X に当てはまる語はどれか。

ア 社会資本 イ 代金
ウ 社会保障 エ 賃金



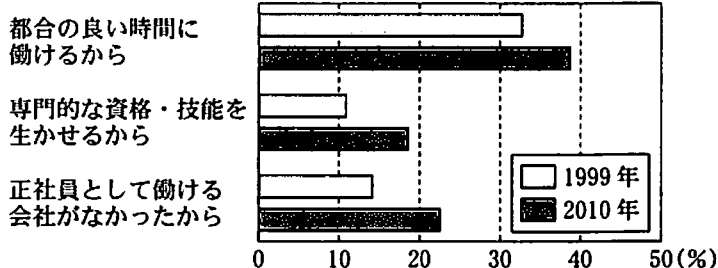
(2) ③に関して、税負担の公平をはかるために、個人の所得などの額が上がるにつれて、税率を高くする制度を何というか。

(3) ④に関して、クレジットカードを使用した消費活動について最も適切に述べているのはどれか。

- ア 商品購入時に支払いは行われず、後日、口座から支払われる。
- イ あらかじめ入金した金額の範囲内で商品購入時に支払いを行う。
- ウ あらかじめ購入したカードに示された金額の範囲内で買い物ができる。
- エ 商品購入時に手元にある現金の範囲内でしか買い物ができない。

(4) ⑤に関して、まさおさんは日本の雇用形態について調べ、図2の資料を使って、レポートをまとめた。まさおさんがレポートのように考えた理由を簡潔に書きなさい。

非正規労働を選んだ理由(複数回答)



レポート

<まとめ>
非正規労働は、働き方の一つとして定着していると考えられます。しかし一方で、国や企業は正規雇用をもっと増やすよう努力する必要があると考えました。

図2 (「就業形態の多様化に関する総合実態調査」により作成)

(5) ①に関して、次の文中の に当てはまる語を書きなさい。

株式会社は、株式を発行して資金を調達し、事業を行う。株式会社において、取締役の選出や会社の経営方針などの議決を行う機関を という。

7 花子さんは、社会科のまとめとして、「日本が貢献すべき分野」をテーマに、以下の三つについて調べることにした。次の1から4までの問いに答えなさい。

軍縮を通じた②世界平和

①環境問題などの地球的課題

③開発途上国の発展

1 下線部②に関して、花子さんは、アメリカ、ソ連とそれぞれの同盟国が東西両陣営に分かれて対立していた時代について調べた。次のア、イ、ウ、エはその時代におきたできごとである。年代の古い順に並べなさい。

ア 朝鮮戦争勃発 イ 冷戦終結 ウ 日中平和友好条約締結 エ 核拡散防止条約締結

2 下線部①に関して、花子さんは、地球温暖化防止に向けた日本の取り組みを調べた。次のうち、地球温暖化防止に向けた取り組みはどれか。

ア 公共料金の値下げ イ クールビズの推進 ウ 貿易の自由化 エ 社会保障の充実

3 下線部③に関して、花子さんが日本のODAについて調べたところ、援助の内容が相手国の経済規模によって異なる傾向があることに気づいた。図に挙げたアフガニスタン、ベトナムはその代表例である。日本の援助にはどのような傾向が見られるか。図を読みとり簡潔に書きなさい。

	GDP (2012年)	日本のODAにおける二国間援助のうちの贈与分に占める割合(2012年)	
		無償資金協力 (橋や道路などをつくるお金を出すこと)	技術協力 (技術を教える人を派遣することなど)
アフガニスタン	203.6億ドル	90.4%	9.6%
ベトナム	1558.2億	12.1	87.9

図 (「世界の統計」ほかにより作成)

4 花子さんは、この学習の成果をレポートにまとめた。以下は、花子さんがレポートの最後に書いた文の一部である。この文中で花子さんが使った「持続可能な社会」が指す内容として最も適切なものはどれか。

私は、現在のように平和で快適な生活がいつまでも続いてほしいと思います。そして、私の子供や孫の世代にも、私と同じように幸せに暮らしてほしいです。また、世界中の人々が安心して生活できるような社会になってほしいです。だから私も、社会の一員として、持続可能な社会の実現に向けて努力していきたいと思っています。

- ア 生産と消費を拡大させ続けることにより、現在の世代の生活水準を向上させていく社会。
- イ 資源やエネルギーの新たな開発を停止し、将来の世代に未開発のまま残しておく社会。
- ウ 開発途上国に投資することで資源や食料を有利な条件で輸入し、自国のために生かす社会。
- エ 現在の世代の欲求も将来の世代の欲求も満たせるよう、節度ある開発を行っていく社会。